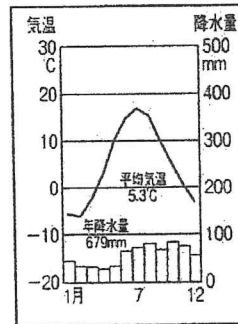
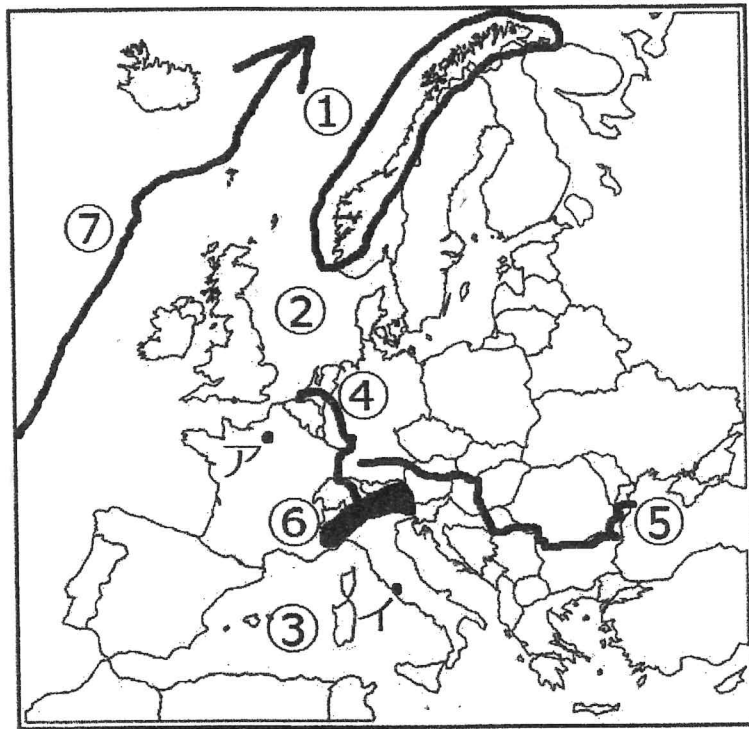


目の前にあることを丁寧に頑張ってください。テストまでもう少し！

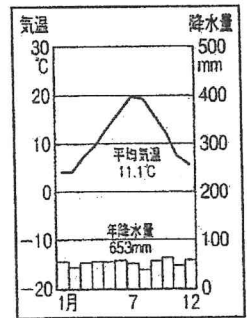
コツコツが勝つコツ！

2年 組 番名前

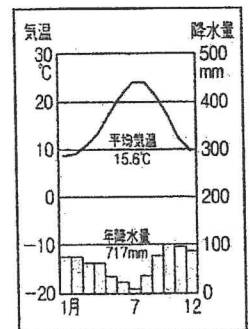
【1】ヨーロッパ州の自然環境と文化について、下の各問いに答えなさい。



(あ)



(い)



(う)

(3) ア: \_\_\_\_\_  
 (3) イ: \_\_\_\_\_

- (1) 次の①～⑦に当てはまる適切な語句を答えなさい。 A
- (2) 地図中のフランスの首都：アとイタリアの首都：イのそれぞれの首都名を答えなさい。 A
- (3) 首都：アと首都：イの雨温図を、上の (あ) (い) (う) からそれぞれ選び、記号で答えなさい。
- (4) 首都：アと首都：イは温帯になり、その中でいくつかに分けることができる。首都：アと首都：イの気候を次の語群からそれぞれ選び、書きなさい。

A: \_\_\_\_\_ イ: \_\_\_\_\_

亜寒帯気候

西岸海洋性気候

地中海性気候

- (5) ヨーロッパ州の国々は、高緯度の位置にあるが、比較的温暖な気候になっている。その理由を『暖流』『吹く風』の2つの語句を使って、簡単に説明しなさい。

- (6) 地図中のA～Cに当てはまる農業を次の①～③から1つずつ選び、記号で答えなさい。

- ①穀物と飼料作物を栽培し、家畜を飼育する。  
 ②乳牛を飼って生乳や乳製品を生産する。  
 ③乾燥する夏にオリーブなどの果樹、雨の降る冬に小麦を栽培する。

A ⇒ \_\_\_\_\_  
 B ⇒ \_\_\_\_\_  
 C ⇒ \_\_\_\_\_



- (7) EU加盟国のうち、誤って説明しているものを次のア～エから1つ選び、記号で答えなさい。
- ア：検問はなく、国境をそのまま通ることができる。  
 イ：仕事の資格は共通している。自分の国だけで働くことができる。  
 ウ：共通通貨の導入国同士では、両替せずに買い物ができる。  
 エ：他国の銀行への預金が自由にできる。

(7) A

→(5) A